

数学科リレー講座

～小さじ一杯から大鍋の味を知る～

第6日目

2階定数係数線形微分方程式
共振・タコマ橋の悲劇

担当 網谷・矢作

共振（共鳴）とは？

例えば、ブランコに乗ってこいでいるとき、
タイミングが合うと、より高い位置までこげたこと
はないだろうか？

昨日までの復習

関数 $u = u(t)$, 微分 (導関数) $\dot{u} = \frac{du}{dt}$

多項式関数

$$u(t) = at^2 + bt + c \Rightarrow \dot{u} = 2at + b$$

$$u(t) = t^n \Rightarrow \dot{u} = nt^{n-1} \quad (n: \text{自然数})$$

指数関数

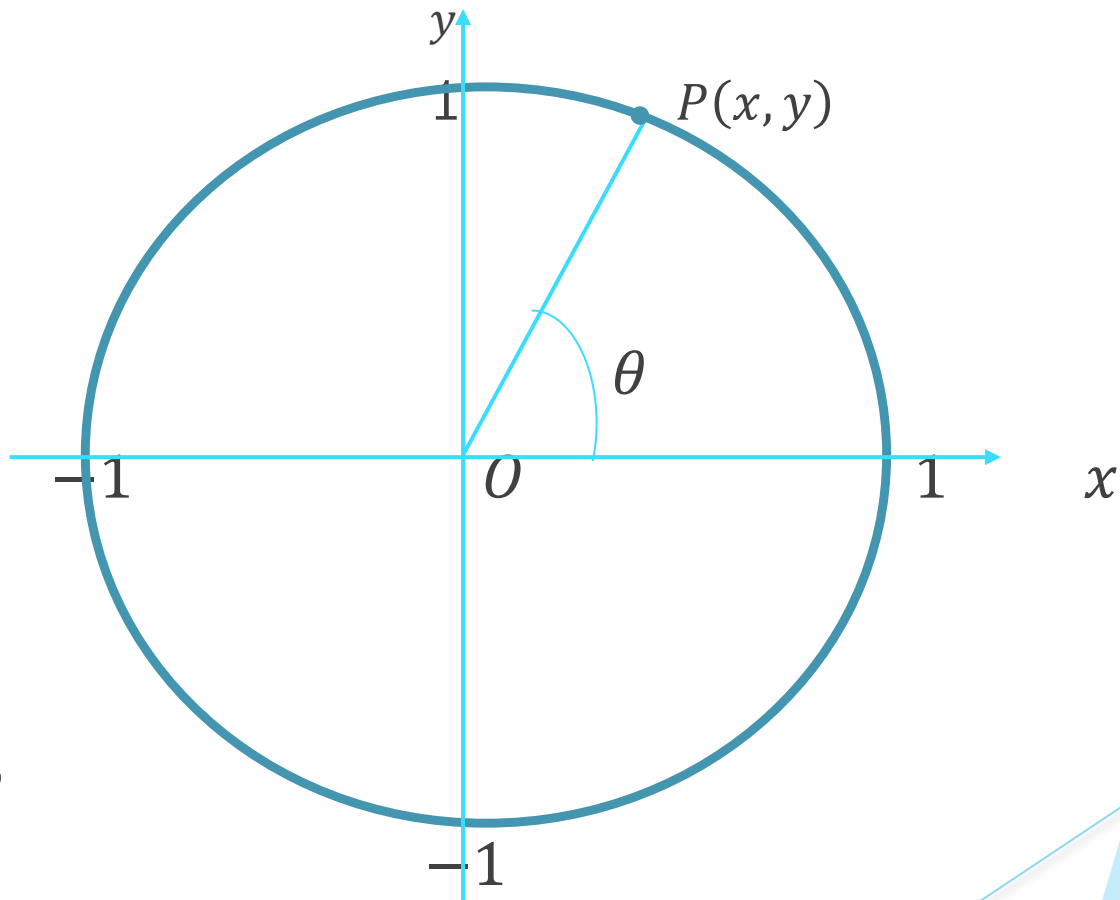
$$u(t) = e^t \Rightarrow \dot{u} = e^t$$

$$u(t) = e^{kt} \Rightarrow \dot{u} = ke^{kt} \quad (k: \text{定数})$$

今日の流れ

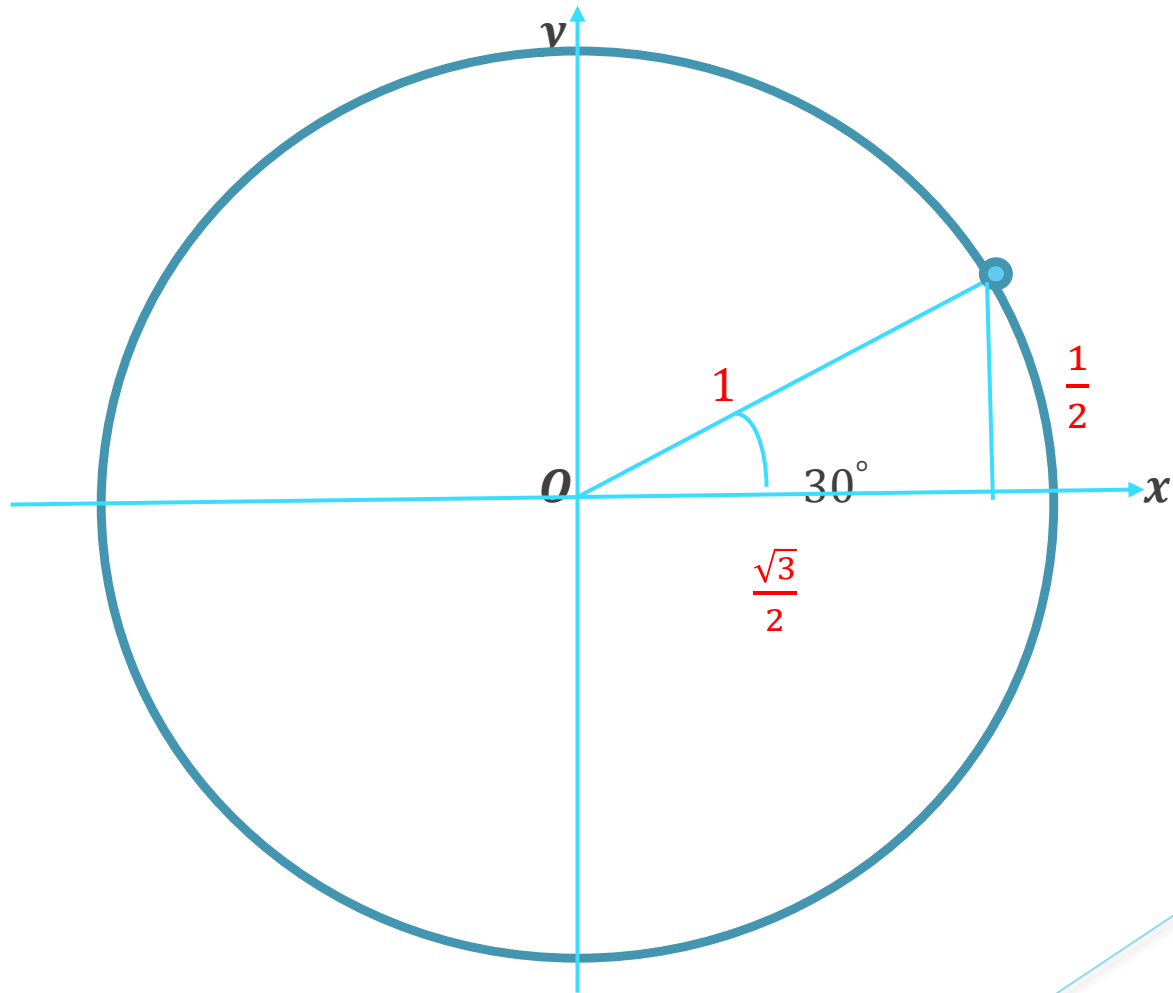
- § 1. 準備：三角関数
- § 2. 定数係数 2 階線形微分方程式
- § 3. バネの振動（共振）

§ 1. 準備：三角関数 $\sin \theta, \cos \theta$



$$\begin{cases} \sin \theta = y, \\ \cos \theta = x \end{cases}$$

例 1 . $\sin 30^\circ = ?$, $\cos 30^\circ = ?$



例題 1 . 次の値を求めよ.

(1) $\sin 0^\circ, \cos 0^\circ$

(2) $\sin 30^\circ, \cos 30^\circ$

(3) $\sin 45^\circ, \cos 45^\circ$

(4) $\sin 180^\circ, \cos 180^\circ$

(5) $\sin 390^\circ, \cos 390^\circ$

解答) . (1) $\sin 0^\circ = 0, \cos 0^\circ = 1$

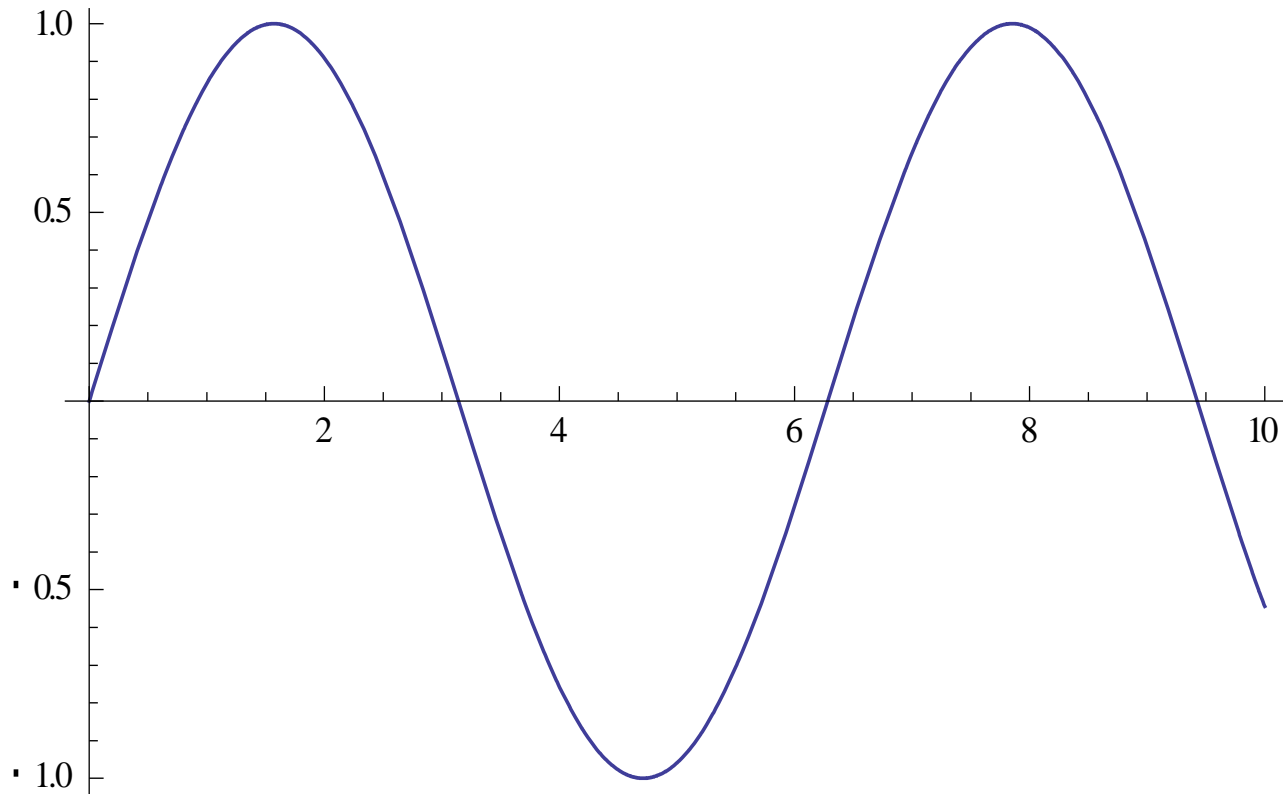
(2) $\sin 30^\circ = \frac{1}{2}, \cos 30^\circ = \frac{\sqrt{3}}{2}$

(3) $\sin 45^\circ = \frac{1}{\sqrt{2}}, \cos 45^\circ = \frac{1}{\sqrt{2}}$

(4) $\sin 180^\circ = 0, \cos 180^\circ = -1$

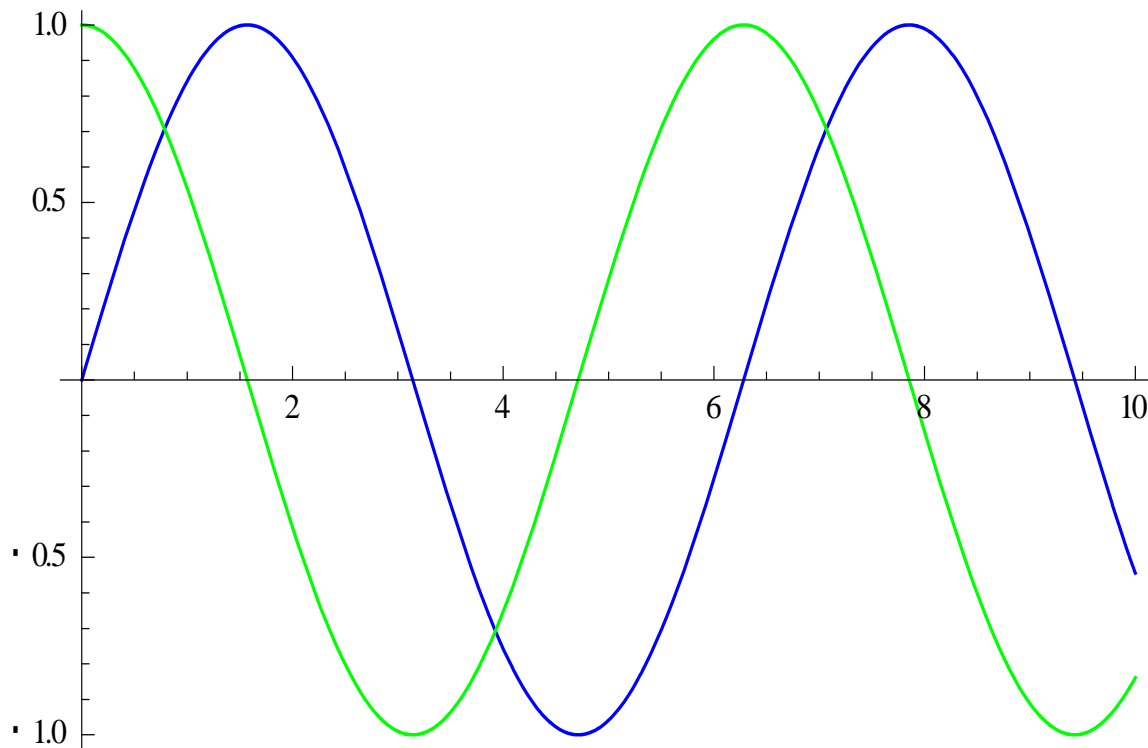
(5) $\sin 390^\circ = \frac{1}{2}, \cos 390^\circ = \frac{\sqrt{3}}{2}$

三角関数 $y = \sin \theta$ のグラフ

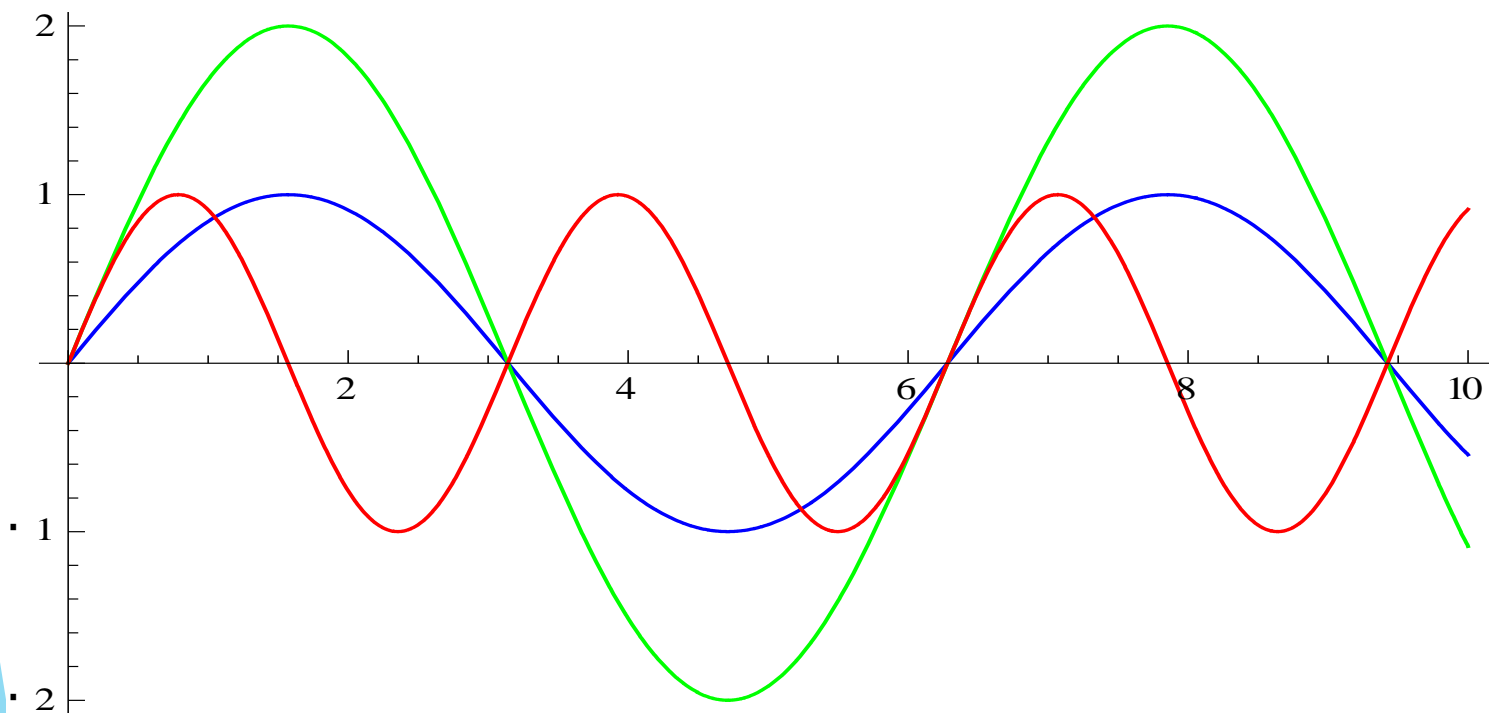


注意： $180^\circ = \pi \text{ rad}$

三角関数 $y = \cos \theta$ ($= \sin(\theta + 90^\circ)$) のグラフ



$$y = \sin \theta \quad \text{と} \quad y = 2 \sin \theta \quad \text{と} \quad y = \sin 2\theta$$



三角関数のいくつかの公式

(1) $-1 \leq \sin \theta \leq 1, \quad -1 \leq \cos \theta \leq 1$

(2) $(\sin \theta)^2 + (\cos \theta)^2 = 1$

(3) $A \sin \theta + B \cos \theta = \sqrt{A^2 + B^2} \cos(\theta + \alpha)$
(三角関数の合成)

(注意: α は A, B を与えると定まる値)

例題 2. $\sin \theta + \cos \theta$ の動く範囲は？

解答) ある α を用いて,

$$\sin \theta + \cos \theta = \sqrt{2} \cos(\theta + \alpha) \dots \textcircled{1}$$

と表わされる. 一方

$$-1 \leq \cos(\theta + \alpha) \leq 1$$

であるから,

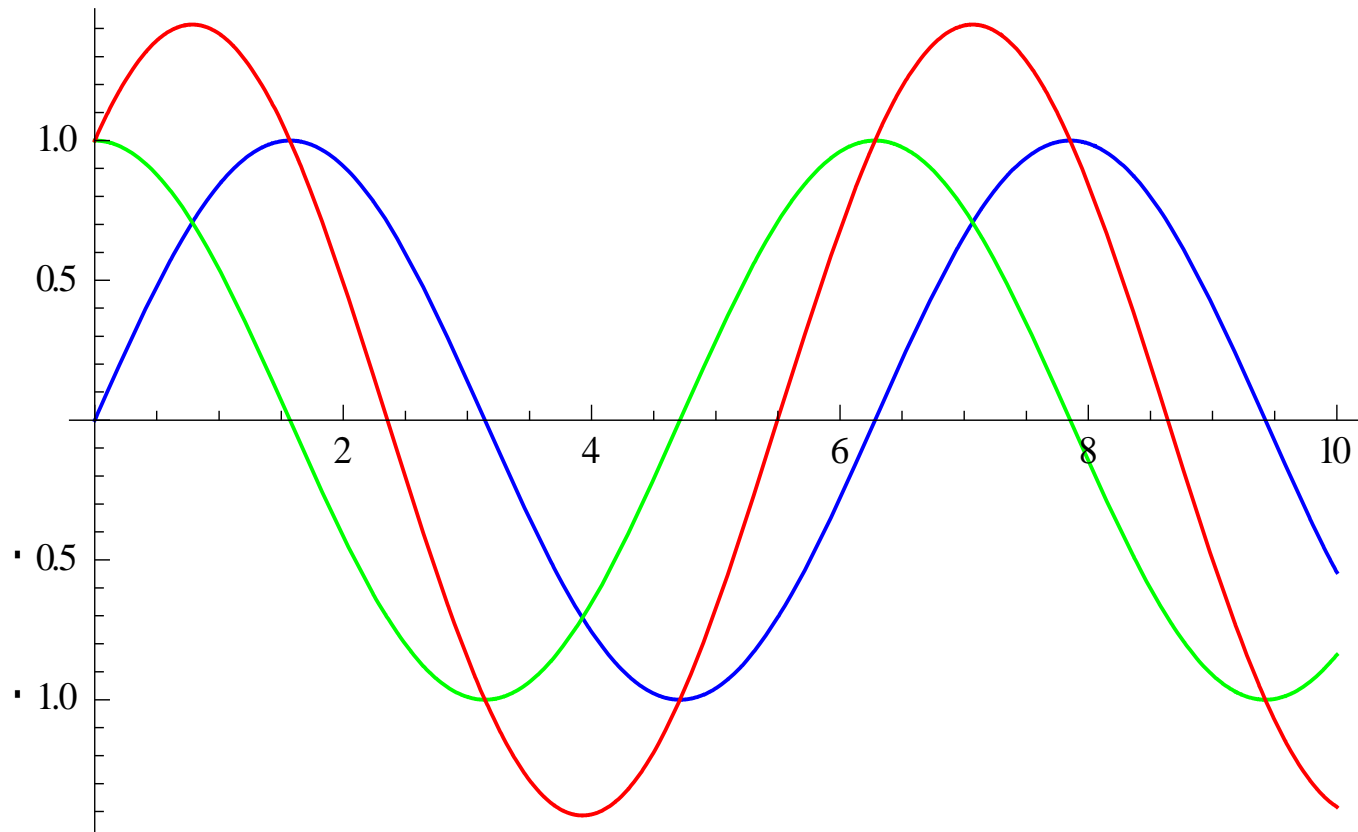
$$-\sqrt{2} \leq \sqrt{2} \cos(\theta + \alpha) \leq \sqrt{2} \dots \textcircled{2}$$

①, ② より

$$-\sqrt{2} \leq \sin \theta + \cos \theta \leq \sqrt{2} \dots \text{(答)}$$

(実は, $\sin \theta + \cos \theta = \sqrt{2} \cos(\theta - 45^\circ)$)

$$y = \sin \theta + \cos \theta = \sqrt{2} \cos(\theta - 45^\circ)$$



三角関数の微分の公式

$$u = u(t), \quad \dot{u} = \frac{du}{dt}$$

(1) $u(t) = \sin t$ ならば, $\dot{u} = \cos t$

(2) $u(t) = \cos t$ ならば, $\dot{u} = -\sin t$

(3) $u(t) = \sin kt$ ならば, $\dot{u} = k \cos kt$

(4) $u(t) = \cos kt$ ならば, $\dot{u} = -k \sin kt$

(k : 定数)

(注意) 度数法ではなく, 弧度法

$$180^\circ = \pi \text{ rad (ラジアン)}$$

練習問題 1.

次の関数 $u = u(t)$ に対して, \dot{u} および \ddot{u} を求めよ.

$$(1) u = -t^2 - 3t + 1$$

$$(2) u = e^{5t}$$

$$(3) u = \sin 3t + \cos 2t$$

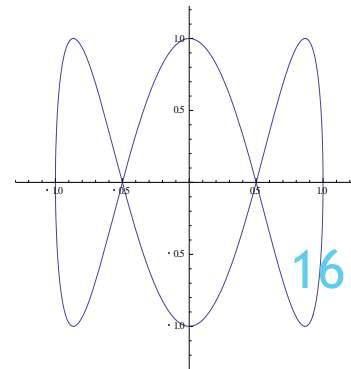
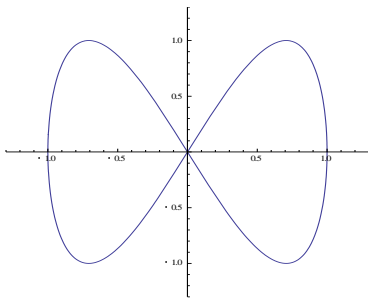
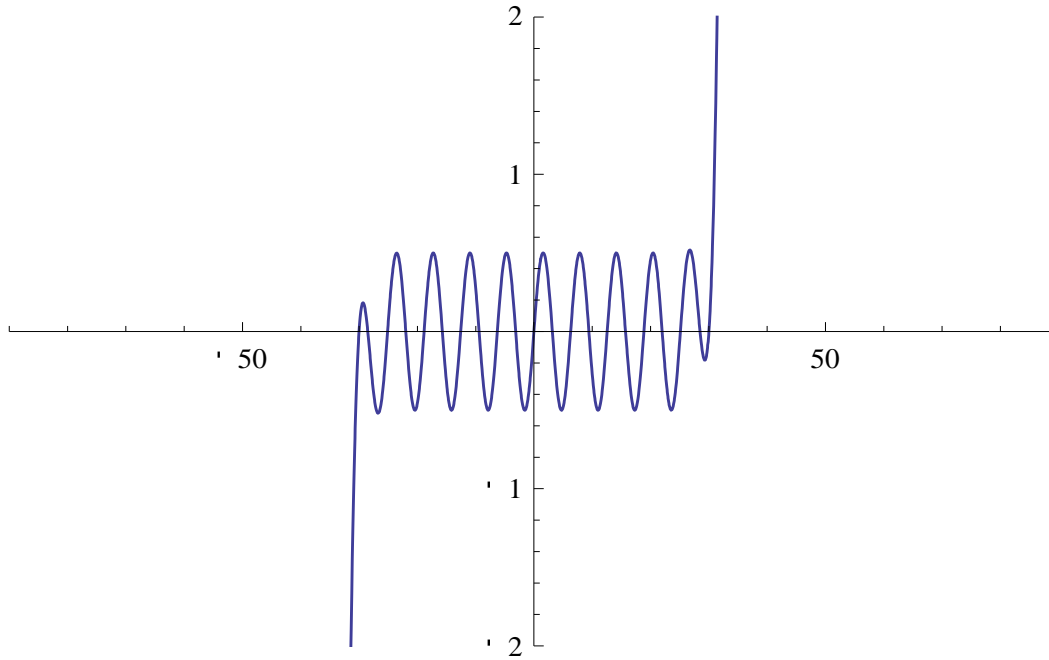
(解答) (1) $\dot{u} = -2t - 3, \ddot{u} = -2$

$$(2) \dot{u} = 5e^{5t}, \ddot{u} = 25e^{5t}$$

$$(3) \dot{u} = 3 \cos 3t - 2 \sin 2t$$

$$\ddot{u} = -9 \sin 3t - 4 \cos 2t$$

ちょっと休憩 1



§ 2. 定数係数 2 階線形微分方程式

$$\ddot{u} + a\dot{u} + bu = 0 \dots (\star)$$

未知関数 $u = u(t)$, a, b : 定数

$$\dot{u} = \frac{du}{dt}, \quad \ddot{u} = \frac{d^2u}{dt^2}$$

(公式1) 特性方程式 $x^2 + ax + b = 0$ の 2 解が
 $x = \alpha, \beta$ (α, β : 異なる 2 実数) であるとする.

➡ (\star) の解は

$$u(t) = Ae^{\alpha t} + Be^{\beta t} \quad (A, B: \text{定数})$$

例題 3. $\ddot{u} - 5\dot{u} + 6u = 0$ の解を求めよ.

解答) 特性方程式 $x^2 - 5x + 6 = 0$ を解くと,

$$(x - 2)(x - 3) = 0 \text{ より, } x = 2, 3$$

よって (公式 1) により求める解は

$$u(t) = Ae^{2t} + Be^{3t} \dots \text{ (答)}$$

(A, B : 定数は, 初期条件などにより定まる)

例題 4 .

$u(t) = Ae^{2t} + Be^{3t}$ は $\ddot{u} - 5\dot{u} + 6u = 0$ を満たすことを確認せよ.

証明) $u = Ae^{2t} + Be^{3t}$

$$\dot{u} = 2Ae^{2t} + 3Be^{3t}$$

$$\ddot{u} = 4Ae^{2t} + 9Be^{3t}$$

故に, $\ddot{u} - 5\dot{u} + 6u = 4Ae^{2t} + 9Be^{3t} - 5(2Ae^{2t} + 3Be^{3t})$

$$+ 6(Ae^{2t} + Be^{3t})$$

$$= (4 - 10 + 6)Ae^{2t} + (9 - 15 + 6)Be^{3t}$$

$$= 0$$

定数係数 2 階線形微分方程式

$$\ddot{u} + a\dot{u} + bu = 0 \dots (\star)$$

未知関数 $u = u(t)$, a, b : 定数

$$\dot{u} = \frac{du}{dt}, \quad \ddot{u} = \frac{d^2u}{dt^2}$$

(公式2) 特性方程式 $x^2 + ax + b = 0$ の 2 解が $x = \alpha$ (重解) であるとする.



(\star) の解は

$$u(t) = Ae^{\alpha t} + Bte^{\alpha t} \quad (A, B: \text{定数})$$

定数係数 2 階線形微分方程式

$$\ddot{u} + a\dot{u} + bu = 0 \dots (\star)$$

未知関数 $u = u(t)$, a, b : 定数

$$\dot{u} = \frac{du}{dt}, \quad \ddot{u} = \frac{d^2u}{dt^2}$$

(公式3) 特性方程式 $x^2 + ax + b = 0$ の 2 解が $x = \alpha \pm \beta i$ であるとする. (i は虚数単位で, $i^2 = -1$)

 (\star) の解は

$$u(t) = e^{\alpha t} (A \cos \beta t + B \sin \beta t) \quad (A, B: \text{定数})$$

例題 5. $\ddot{u} + 4u = 0$ の解を求めよ.

(解) 特性方程式 $x^2 + 4 = 0$ を解くと

$$x^2 = -4 \text{ より, } x = \pm 2i$$



求める解は, (公式 3) より

$$u(t) = A \cos 2t + B \sin 2t \dots \text{ (答)}$$

(A, B : 定数は, 初期条件などにより定まる)

例題 6. $u(t) = A \cos 2t + B \sin 2t$ は
 $\ddot{u} + 4u = 0$ を満たすことを確認せよ.

(証明) $u = A \cos 2t + B \sin 2t$

$$\dot{u} = -2A \sin 2t + 2B \cos 2t$$

$$\ddot{u} = -4A \cos 2t - 4B \sin 2t$$



$$\begin{aligned} \ddot{u} + 4u &= -4A \cos 2t - 4B \sin 2t \\ &\quad + 4A \cos 2t + 4B \sin 2t \\ &= 0 \end{aligned}$$

練習問題 2.

次の微分方程式の解を求めよ.

ただし, A, B (定数) を用いよ.

$$(1) \ddot{u} + 2\dot{u} - 3u = 0 \quad (2) \ddot{u} - 6\dot{u} + 9u = 0$$

$$(3) \ddot{u} + 2\dot{u} + 3u = 0$$

(解答)

(1) 特性方程式は $x^2 + 2x - 3 = 0 \Leftrightarrow (x + 3)(x - 1) = 0 \Leftrightarrow x = -3, 1$

故に, $u = Ae^{-3t} + Be^t \dots$ (答)

(2) 特性方程式は $x^2 - 6x + 9 = 0 \Leftrightarrow (x - 3)^2 = 0 \Leftrightarrow x = 3$ (重解)

故に, $u = Ae^{3t} + Bte^{3t} \dots$ (答)

(3) 特性方程式は $x^2 + 2x - 3 = 0 \Leftrightarrow x = -1 \pm \sqrt{1 - 3} = -1 \pm \sqrt{2}i$

故に, $u = e^{-t}(A \cos \sqrt{2}t + B \sin \sqrt{2}t) \dots$ (答)

ちょっと休憩 2.

